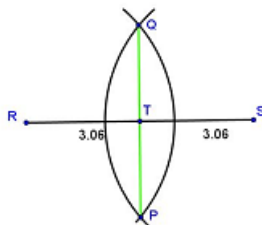


Gníomhaíochtaí Daltaí: Tógáil 2

Déan in éineacht leis an gcomhad idirghníomhach “Tógáil 2” ar CD an Dalta.

Tógáil 2: Chun déroinnteoir Ingearach mírlíne a thógáil, gan ach corr dhíreach agus compás a úsáid.




1. Bog an sleamhnán faoi dheis ar an gcomhad idirghníomhach, ionas go mbeidh $|RT| = 3.6$.
 An bhfuil $|RT| = |TS|$? _____
 Cad a insíonn sé sin dúinn faoin bpointe T? _____

2. Bog an sleamhnán faoi chlé ar an gcomhad idirghníomhach, ionas go mbeidh $|TS| = 3.3$.
 An bhfuil $|TS| = |TR|$? _____
 Cad a insíonn sé sin dúinn faoin bpointe T? _____

3. Tóg Déroinnteoir Ingearach gach mírlíne thíos. Fíoraigh na freagraí.

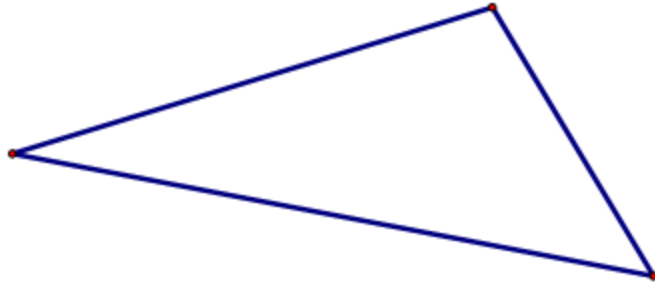
(i)



(ii)



4. Tóg Déroinnteoírí Ingearacha sleasa an triantáin.



Cad a thugann tú faoi deara faoi na trí dhéoinnteoir ingearacha?