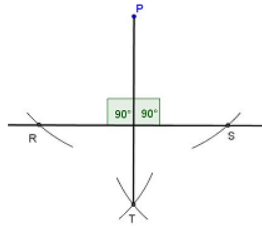


Gníomhaíochtaí Daltaí: Tógáil 3

Déan in éineacht leis an gcomhad idirghníomhach “Tógáil 3” ar CD an Dalta.

Tógáil 3: Chun Líne a thógáil a bheidh ingearach le líne thugtha l, agus a théann trí phointe tugtha nach bhfuil ar l. (Compás a úsáid)



1. Tóg líne trí P agus líne trí Q a bheidh ingearach leis na línte tugtha. Fóraigh go bhfuil na línte sin ingearach.

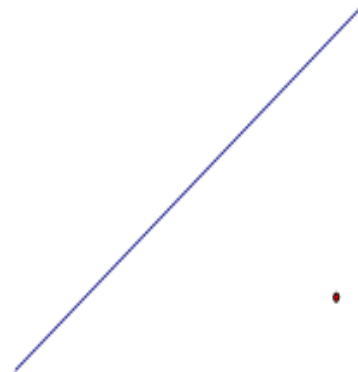
(i)

P

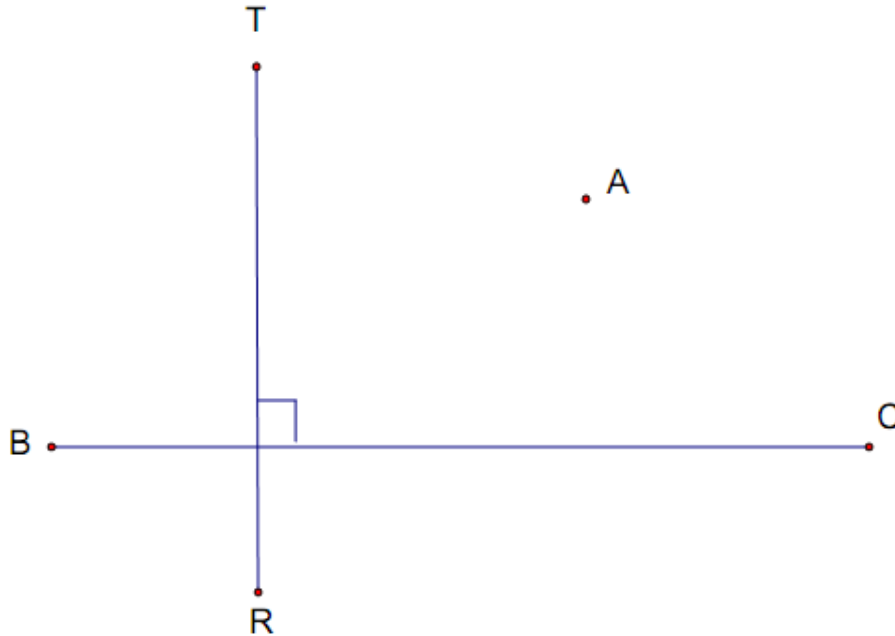


(ii)

Q



2. Tóg líne trí A a bheidh ingearach le $[BC]$, agus tóg líne eile trí A a bheidh ingearach le $[RT]$.



Cad a thugtar ar an gceathairshleasán sin? _____

Tomhais sleasa an cheathairshleasáin. Cén tátal a bhaineann tú as an méid sin?
