


## Gníomhaíochtaí Daltaí: Tógáil 3a

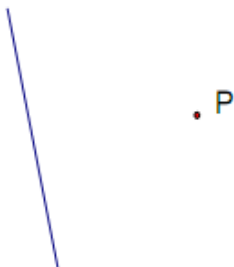
Déan in éineacht leis an gcomhad idirghníomhach “Tógáil 3a” ar CD an Dalta.

Tógáil 3a: Chun líne a thógáil a bheidh ingearach le líne tugtha l, agus a théann trí phointe tugtha nach bhfuil ar l. (Dronbhacart a úsáid)




1. Tóg líne trí P, agus líne trí Q, a bheidh ingearach leis na línte tugtha. Fíoraigh na freagraí.

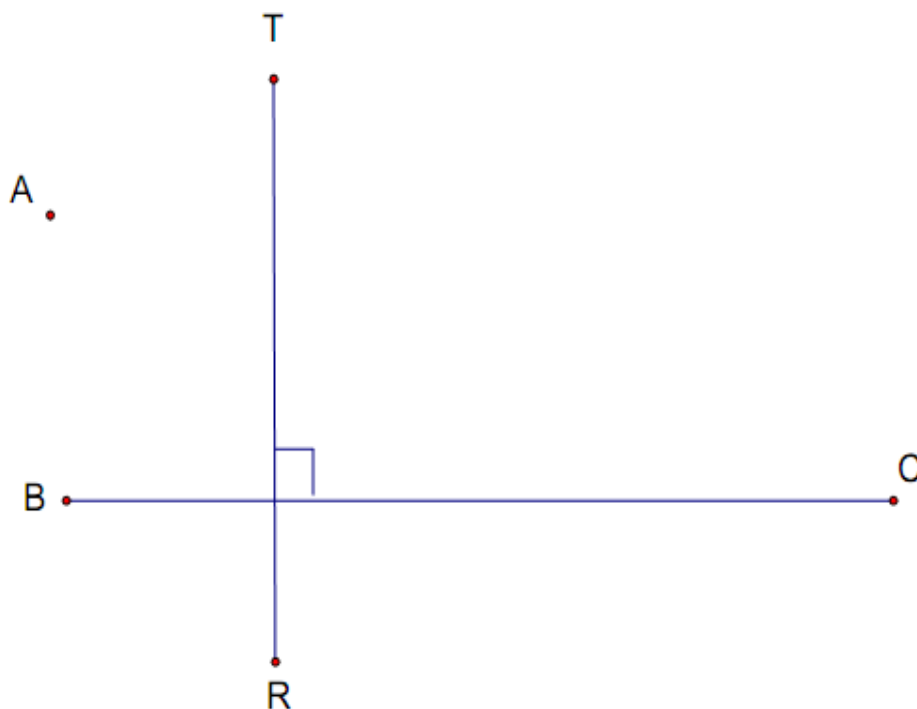
(i)



(ii)



2. Tóg líne trí A a bheidh ingearach le  $[BC]$ , agus tóg líne trí A a bheidh ingearach le  $[RT]$ .



Cad a thugtar ar an gceathairshleasán sin?

---

Tomhais sleasa an cheathairshleasáin. Cén tátal a bhaineann tú as?

---