

## Gníomhaíochtaí Daltaí: Tógáil 4a

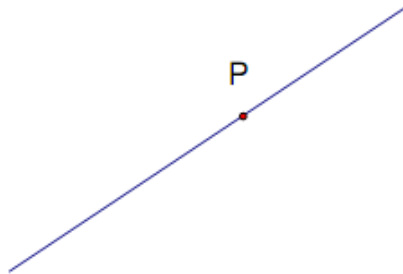
Déan in éineacht leis an gcomhad idirghníomhach “Tógáil 4a” ar CD an Dalta.

Tógáil 4a: Chun líne a thógáil a bheidh ingearach le líne tugtha L, agus a théann trí phointe tugtha ar L. (Dronbhacart a úsáid)

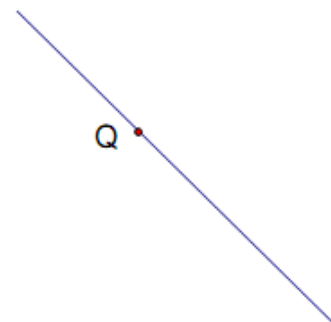


1. Tóg líne trí P agus líne trí Q a bheidh ingearach leis na línte tugtha. Fíoraigh na freagraí.

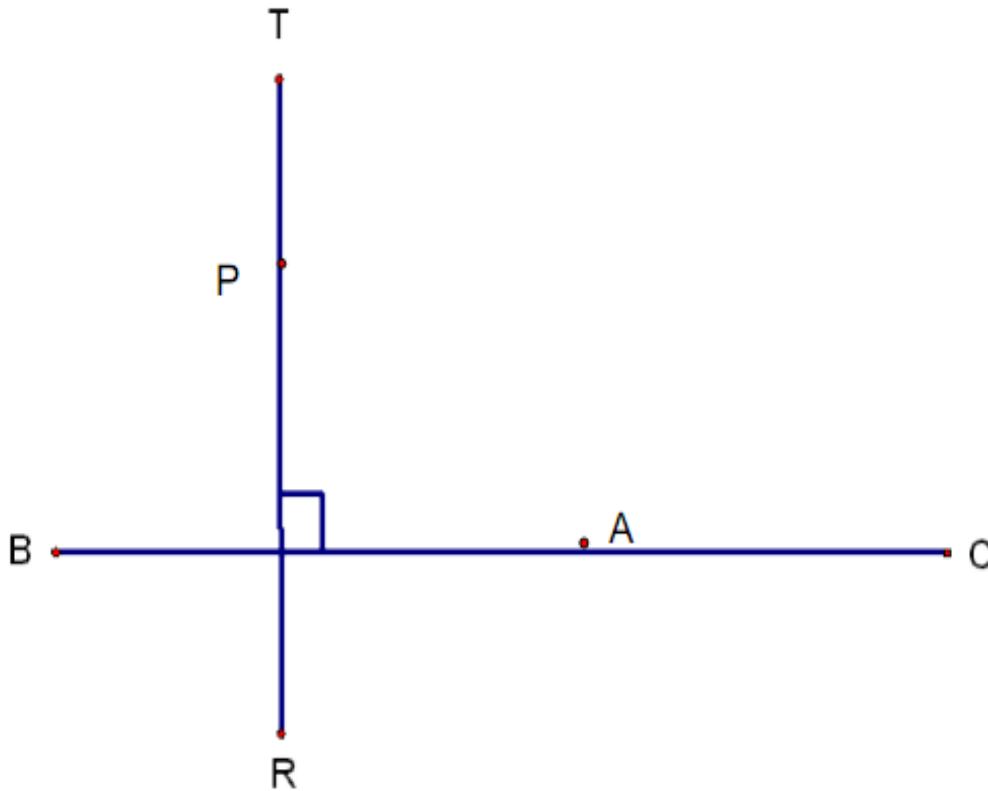
(i)



(ii)



2. Tóg líne trí A a bheidh ingearach le  $[BC]$ , agus lean an líne sin. Tóg líne trí P a bheidh ingearach le  $[RT]$ , agus lean an líne sin.



Cad a thugtar ar an gceathairshleasán sin?

---

Tomhas sleasa an cheathairshleasáin. Cén tátal a bhaineann tú as?

---