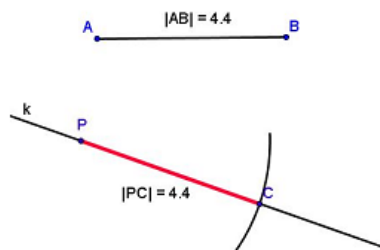



Gníomhaíochtaí Daltaí: Tógáil 8

Déan in éineacht leis an gcomhad idirghníomhach “Tógáil 8” ar CD an Dalta.

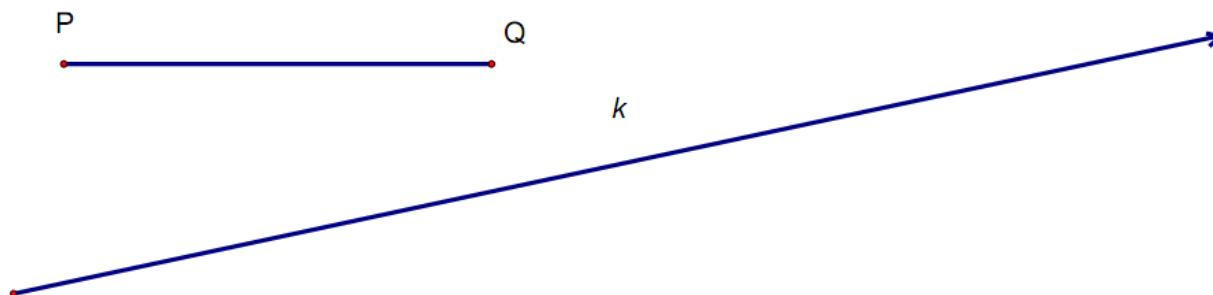
Tógáil 8: Tóg mírlíne d’fhad tugtha ar gha tugtha.



1. Marcáil ar an nga l mírlíne atá ar comhfhad leis an mírlíne AB.



2. Marcáil ar an nga k mírlíne atá ar comhfhad leis an mírlíne PQ



3. Is mírlíne í $[RS]$ ar an nga p . Déan cóip de $[RS]$ a thógáil os cionn an gha p , agus comhthreomhar leis.

