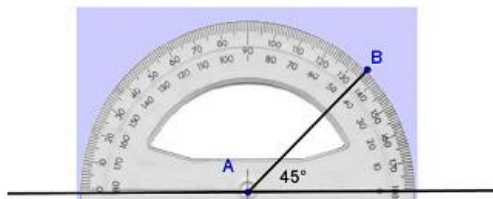


Gníomhaíochtaí Daltaí: Tógáil 9

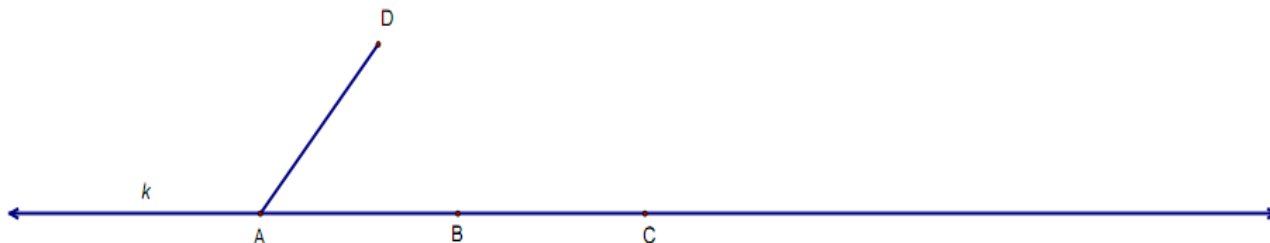
Déan in éineacht leis an gcomhad idirghníomhach “Tógáil 9” ar CD an Dalta.

Tógáil 9: Uillinn a thógáil nuair a thugtar líon na gcéimeanna inti, agus nuair is ga tugtha atá i ngéag amháin den uillinn.

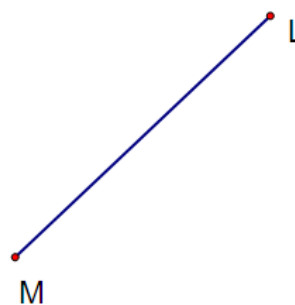


1. Tomhais an uillinn DAB. _____

Ó na pointí B agus C ar an líne k tóg uillinneacha a mbeidh an tomhas céanna iontu leis an uillinn DAB.



2. Tóg uillinneacha QPR agus LMO ionas go mbeidh tomhas QPR = 63° , agus tomhas LMO = 75° .



3. Tóg uillinneacha ABC agus STR ionas go mbeidh tomhas $ABC = 100^\circ$ agus tomhas $STR = 120^\circ$.

