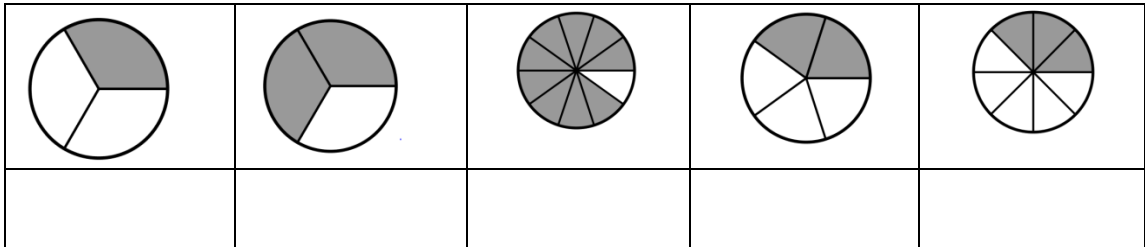



Gníomhaíocht Daltaí: Codáin a Léiriú ar Chiorcal Codáin

Déan in éineacht leis an gcomhad idirghníomhach, 'Ciorcal Codáin', ar CD an Dalta.

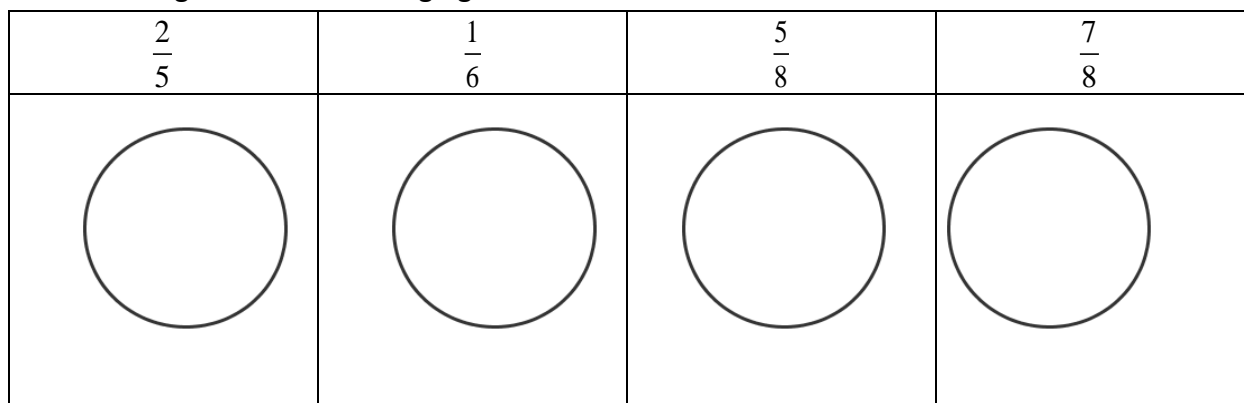
1. Ainmnigh an codán scáthaithe i ngach ciorcal codáin díobh seo a leanas:



2. Má sheasann an léaráid ar dheis do pháirt, léirigh timpeall $\frac{5}{12}$ den pháirt ar an léaráid.



3. Léirigh na codáin thíos go garbh ar na ciorcail chodáin seo.



4. Má sheasann 1 ciorcal amháin do 1 aonad amháin, léirigh $4\frac{2}{3}$ aonad le ciorcail.

5. An mbeadh an méid céanna páirta i gcónaí i $\frac{1}{2}$ pháirta? Mínigh do fhreagra.

6. Mínigh, le ciorcail chodáin, má tá $\frac{4}{5}$ níos mó ná nó níos lú ná $\frac{5}{6}$.

7. Mínigh, le ciorcail chodáin, má tá $\frac{3}{4}$ níos mó ná nó níos lú ná $\frac{4}{7}$.
