

Gníomhaíocht Daltaí: Codáin, deachúlacha agus céatadán a iniúchadh

Déan in éineacht leis an gcomhad idirghníomhach, 'Codán Deachúil Céatadán', ar CD an Dalta.

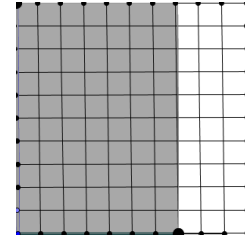
1)

- i) Cé mhéad cearnóg ar leithead agus cé mhéad cearnóg ar airde atá an léaráid seo?

- ii) Cén codán den léaráid atá scáthaithe?

- iii) Cén céatadán den léaráid atá scáthaithe?

- iv) Cén luach deachúlach atá á léiriú sa chuid scáthaithe?



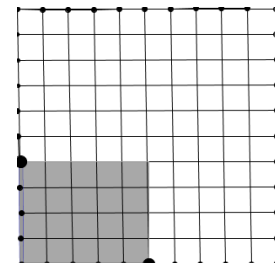
2.

Cén codán den léaráid 10 X 10 seo atá scáthaithe?

- i) _____

- ii) Cén céatadán den léaráid 10 X 10 seo atá scáthaithe?

- iii) Cén luach deachúlach atá á léiriú sa chuid scáthaithe den léaráid?

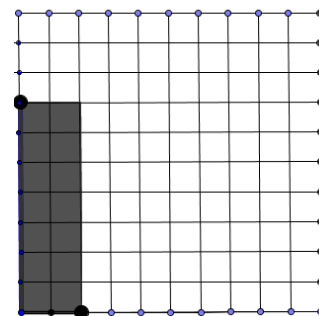


3.

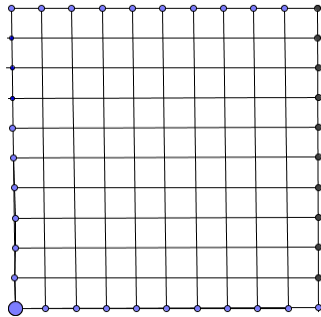
- i) Cén codán den léaráid 10 X 10 seo atá scáthaithe?

- ii) Cén céatadán den léaráid 10 X 10 seo atá scáthaithe?

- iii) Cén luach deachúlach atá á léiriú sa chuid scáthaithe den léaráid?



4. Scáthaigh na codáin seo ar na léaráidí thíos. Ansin scríobh an luach deachúlach agus an céatadán a fhreagraíonn dó i ngach cás:



a)

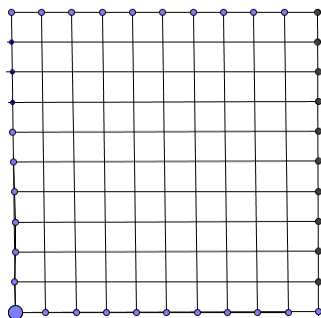
$$\frac{80}{100}$$

An céatadán scáthaithe =

An luach deachúlach atá scáthaithe =

b)

$$\frac{1}{5}$$

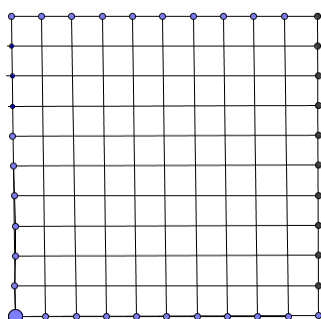


An céatadán scáthaithe =

An luach deachúlach atá scáthaithe =

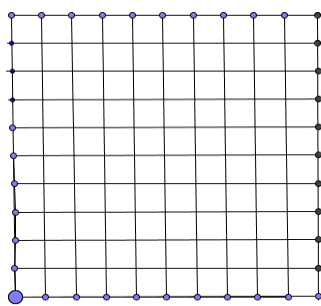
c)

$$\frac{1}{4}$$



An céatadán scáthaithe =

An luach deachúlach atá scáthaithe =



$$\frac{3}{4}$$

An céatadán scáthaithe =

An luach deachúlach atá scáthaithe =

5. Cé acu duais ab fhearr leat a ghnóthú, 21% de dhuaischiste nó $\frac{1}{5}$ den duaischiste céanna? Mínigh do fhreagra.

6. Fuair Emer 48 marc as marc iomlán 50 sa scrúdú mata.

- a) Cén céatadán den scrúdú mata a fuair sí i gceart?
-
- b) Cén céatadán dá scrúdú mata a bhí mícheart?
-
- c) Cén codán den scrúdú mata a fuair sí i gceart?
-
- d) Cén codán den scrúdú mata a bhí mícheart aici?
-
- e) Scríobh i bhfoirm deachúla an méid den scrúdú mata a fuair sí i gceart.
-

7. Cé acu ab fhearr leat, 0.7 de dhuais nó $\frac{3}{4}$ den duais chéanna? Mínigh do rogha.

8. Cén codán arb ionann é agus 0.8?

9. D'ith Seosaimhín 21 milseán as mála ina raibh 25 milseán.

- a) Cén codán de na milseáin sa mhála a d'ith sí?

b) Cén codán de na milseáin sa mhála nár ith Seosaimhín?

c) Cén céatadán de na milseáin sa mhála a d'ith sí?

d) Cén céatadán de na milseáin sa mhála nár ith sí?

10. Cé acu sciar is mó, $\frac{1}{2}$ phíotsa 12 orlach, nó $\frac{3}{4}$ de phíotsa 9 n-orlaí? Mínigh do fhreagra.