

Gníomhaíocht Daltaí: Slánuimhir Dhiúltach

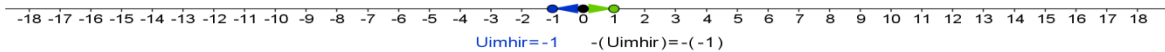
Déan in éineacht leis an gcomhad idirghníomhach, 'Slánuimhreacha Diúltacha', ar CD an Dalta.

Bog an sleamhnóir chun an uimhir a athrú

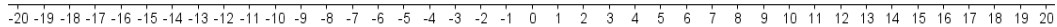


Cliceáil chun an Uimhir a léiriú ar an Uimhirlíne

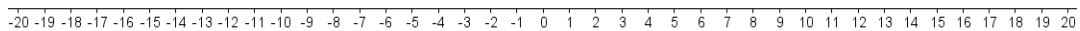
Cliceáil chun -(Uimhir) a fheiceáil



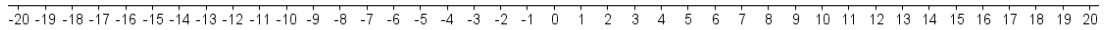
- Léirigh 4 ar an uimhirlíne agus léirigh $- (4)$ ar an uimhirlíne chéanna.



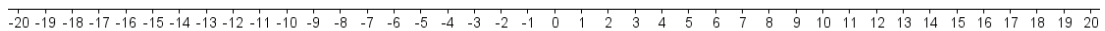
- Léirigh 5 ar an uimhirlíne agus léirigh $- (5)$ ar an uimhirlíne chéanna.



- Léirigh -3 ar an uimhirlíne agus léirigh $- (-3)$ ar an uimhirlíne chéanna.



- Léirigh -2 ar an uimhirlíne agus léirigh $- (-2)$ ar an uimhirlíne chéanna.



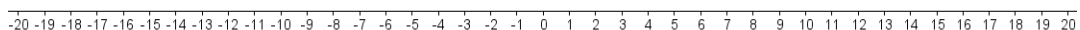
- Má tá lúide roimh uimhir, céard a tharlaíonn don uimhir ar an uimhirlíne?

- Céard é $- (2)$?

- Céard é $- (-6)$?

- Cén difríocht atá idir $- (-5)$ agus -5 ar an uimhirlíne?

- Léirigh $- (-7)$ ar an uimhirlíne.



- Má chuirtear lúide roimh shlánuimhir, céard a tharlaíonn don chomhartha a bhí roimh an tslánuimhir?
