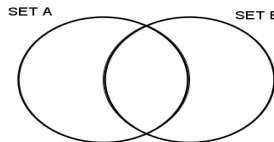


Gníomhaíocht Daltaí: 2 Léaráid Venn a Iniúchadh

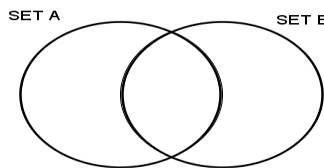
Déan in éineacht leis an gcomhad idirghníomhach, 'léaráid Venn', ar CD an Dalta.

Nótáil: $A^c = A'$.

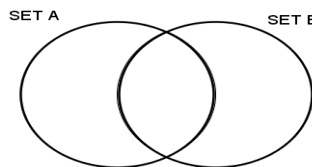
1. Ar an léaráid thíos, scáthaigh an limistéar a sheasann don tacar A.



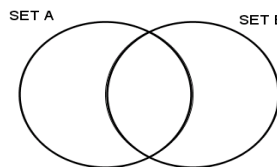
2. Ar an léaráid thíos, scáthaigh an limistéar a sheasann don tacar B.



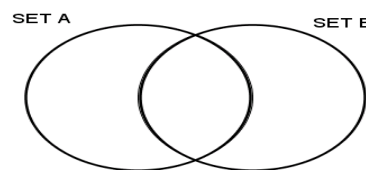
3. Ar an léaráid thíos, scáthaigh an limistéar a sheasann do $A \cap B$.



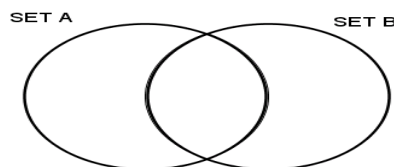
4. Ar an léaráid thíos, scáthaigh an limistéar a sheasann do $A \cup B$.



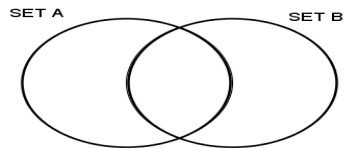
5. Ar an léaráid thíos, scáthaigh an limistéar a sheasann do A^c .



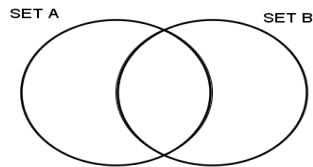
6. Ar an léaráid thíos, scáthaigh an limistéar a sheasann do B^c .



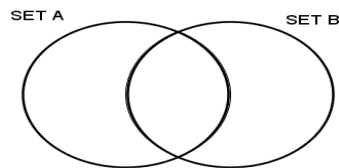
7. Ar an léaráid thíos, scáthaigh an limistéar a sheasann do $(A \cup B)^c$.



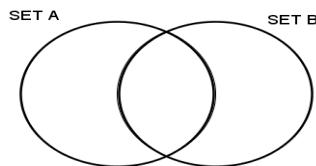
8. Ar an léaráid thíos, scáthaigh an limistéar a sheasann do $(A \cap B)^c$.



9. Ar an léaráid thíos, scáthaigh an limistéar a sheasann do $(A \setminus B)$.



10. Ar an léaráid thíos, scáthaigh an limistéar a sheasann do $(B \setminus A)$.



Seiceáil do chuid freagraí anois leis an gcomhad idirghníomhach, 'Léaráid Venn', ar CD an Dalta.

11. An bhfuil $A \setminus B$ éagsúil le $B \setminus A$? Mínigh do fhreagra, le léaráidí Venn.

12. An bhfuil $(A \cap B)$ éagsúil le $(B \cap A)$? Mínigh do fhreagra le léaráid Venn.

13. An bhfuil $(A \cup B)$ éagsúil le $(B \cup A)$? Mínigh do fhreagra le léaráid Venn.

14. An bhféadfadh cuid de na baill chéanna a bheith in A agus in A^c riamh? Mínigh do fhreagra le léaráidí Venn.