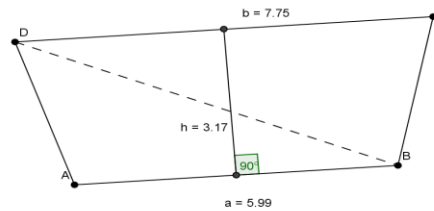


Gníomhaíocht Daltaí: Traipéisiamá a iniúchadh

Déan in éineacht leis an gcomhad idirghníomhach, 'Traipéisiam', ar CD an Dalta.

Bog an pointe A chun traipéisiam nua a dhéanamh

Clliceáil agus feicfidh tú céard is bri le traipéisiam



Ceathairshleasán agus dhá shlios chomhthreomhara ann, sin traipéisiam.

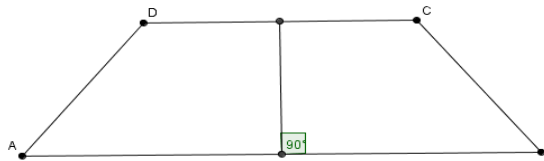
Clliceáil agus feicfidh tú achar an traipéisiam thuas

Tá achar an traipéisiam thuas = 21.79

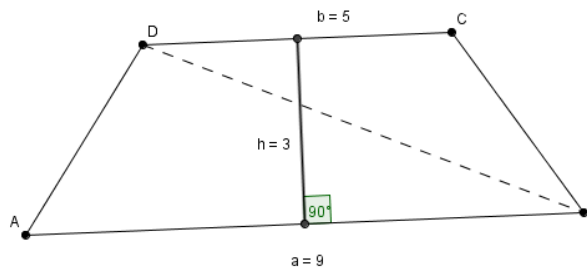
Ceart go dtí 2 áit dheachúlacha

1. Céard is traipéisiam ann? (Féach an comhad idirghníomhach más gá.)

2. Cé na sleasa atá comhthreomhar ar an traipéisiam thíos?



- 3.

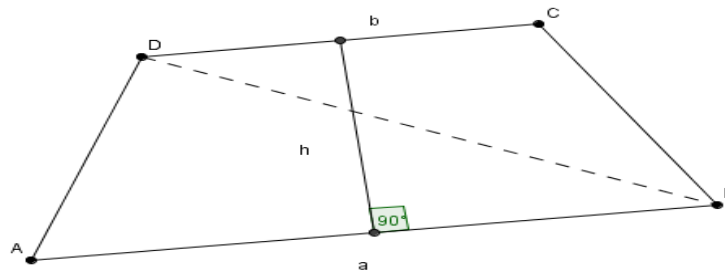


- a. Céard í airde ingearach an triantáin ABD ? _____
- b. Céard é achar an triantáin ABD ? Bíodh do chuid figiúirí le feiceáil.

- c. Céard í airde ingearach an triantáin BCD ? _____
- d. Céard é achar an triantáin BCD ? Bíodh do chuid figiúirí le feiceáil.

- e. Uaidh sin, céard é achar an traipéisiam $ABCD$? Teastaíonn do chuid figiúirí.

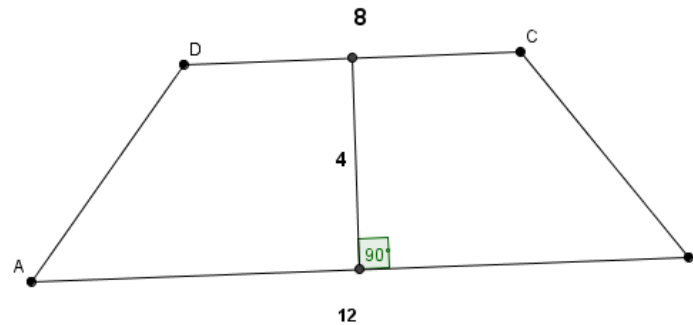
4.



- a. Faigh achar an traipéisiam $ABCD$ i dtéarmaí a , b agus h . Bíodh do chuid oibre le feiceáil.

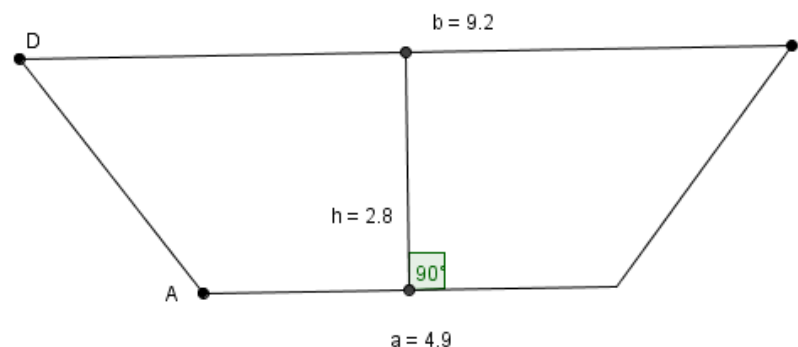
- b. An fíor an fhoirmle a fuair tú in **a** thuas do na traipéisiamáí uile?

5.



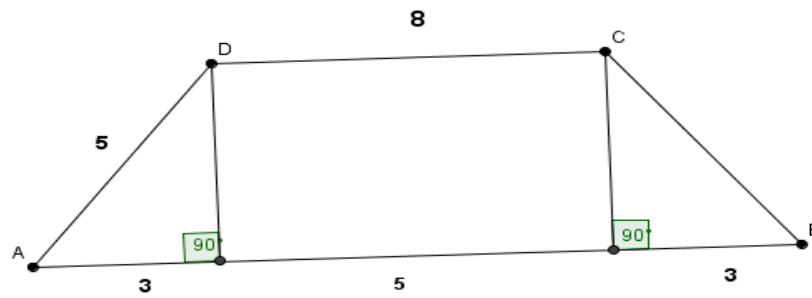
Faigh achar an traipéisiam $ABCD$ sa léaráid thuas. Bíodh do chuid oibre uile le feiceáil.

6.



Faigh achar an traipéisiam $ABCD$ sa léaráid thuas. Bíodh do chuid oibre uile le feiceáil.

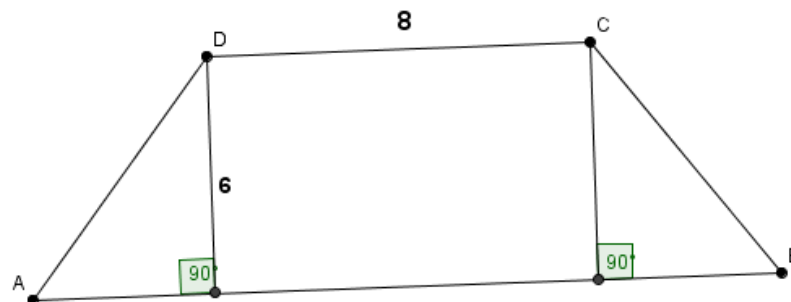
7.



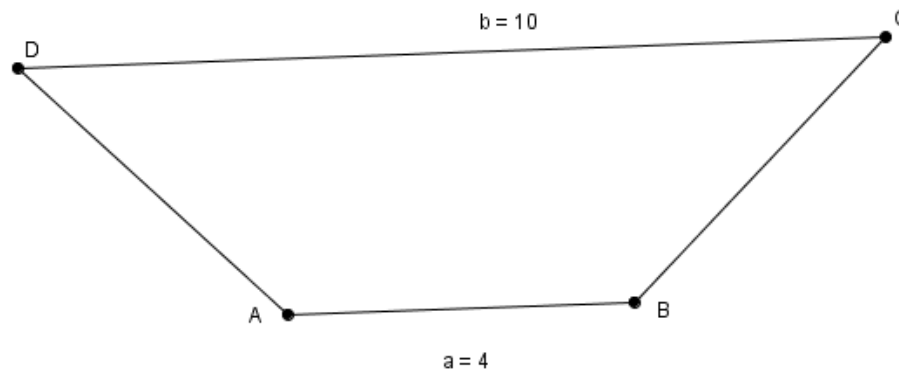
- a. Faigh achar an traipéisiam atá léirithe thuas. Bíodh do chuid áirimh uile le feiceáil.

- b. Faigh imlíne an traipéisiam thuas. Bíodh do chuid áirimh le feiceáil.

8. Gearrfar traipéisiam den déanamh thíos as píosa ábhair. Cén t-achar ábhair a theastaíonn, agus cén méid ábhair a chuirfear amú?



9. Faigh airde ingearach an traipéisiam thíos: 20.8 cm^2 an t-achar.



10. Dá dtiocfá ar scipe bruscair, gan chlúdach, agus na taobhanna (na haghaidheanna) i bhfoirm traipéisiamaí, cé na faid a chaithfeá a thomhas chun achar dromchla iomlán an scipe a oibriú amach?
