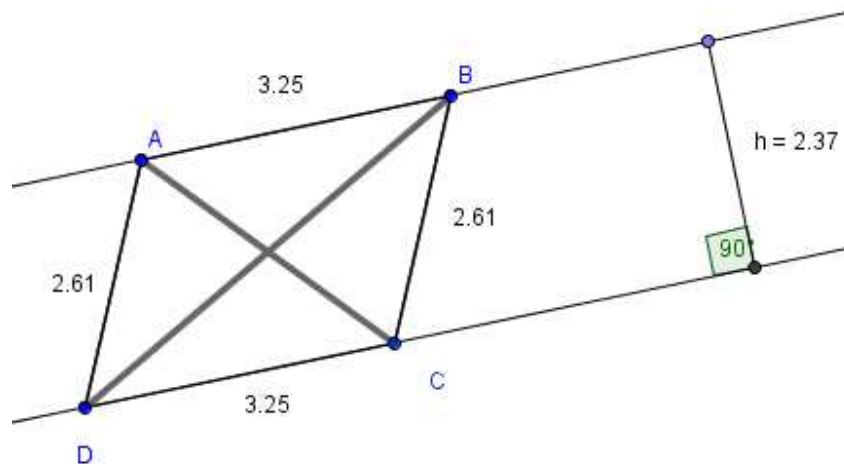


## Gníomhaíochtaí Daltaí: Teoirim 17

Déan in éineacht leis an gcomhad idirghníomhach “Teoirim 17” ar CD an Dalta.

**A fhiosrú: Mar a roinneann trasnán comhthreomharáin an comhthreomharán.**



1. Ainmnigh dhá thrasnán an chomhthreomharáin sa chomhad idirghníomhach.

---

2. Cén líne a léiríonn an airde ingearach idir na línte comhthreomhara? Mínigh do fhreagra.

---



---



---

3. Roinneann an trasnán AC an comhthreomharán ina dhá thriantán. Ainmnigh na triantáin.

---



---

4. Faigh achar gach ceann de na triantáin atá luaite i gceist 3. Mínigh do chuid ríomhaireachtaí.

---



---



---

5. Ar bhain tú tátal as, gur dhéoinn an trasnán AC achar an chomhthreomharáin?  
Mínigh d'fhreagra.

---

---

---

6. Roinneann an trasnán BD an comhthreomharán ina dhá thriantán. Ainmnigh na triantáin.

---

7. Faigh achar gach ceann de na triantáin atá luaite i gceist 6. Mínigh do chuid ríomhaireachtaí.

---

---

---

8. An dóigh leat gur dhéoinn an trasnán BD achar an chomhthreomharáin? Mínigh do fhreagra.

---

---

---

9. Trí na pointí ar an gcomhad idirghníomhach a bhogadh, an ndéarfá go ndéoinneann gach trasnán i gcomhthreomharán ar bith achar an chomhthreomharáin? Mínigh.

---

---

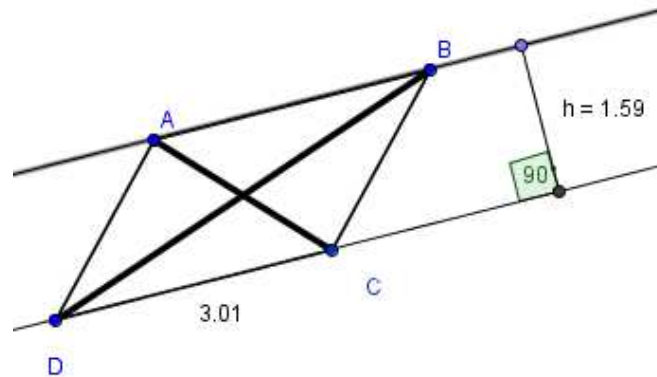
---

---

---

**Dúshláin**

10. Faigh achar an triantáin ADC, agus faigh uaidh sin achar an chomhthreomharáin ABCD. Taispeáin na ríomhaireachtaí.

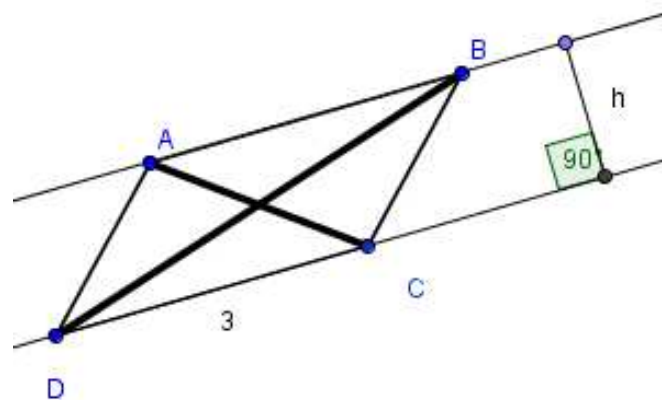



---



---

11. Más é  $45 \text{ cm}^2$  achar an chomhthreomharáin thíos, faigh an fad is gaire idir na línte comhthreomhara AB agus DC. Taispeáin na ríomhaireachtaí.




---



---